

Mariage de Dua Lipa et Callum Turner (2 juin 2026)

FICHE PÉDAGOGIQUE

i De quoi est-il question ? D'un mariage ! La chanteuse Dua Lipa et l'acteur Callum Turner se sont mariés lors d'une petite cérémonie. 🗨️


👤 De qui est-il question ? De Dua Lipa, l'une des chanteuses pop les plus connues au monde, et de Callum Turner, un acteur britannique. 🧑🏻🧑🏻

🌍 Où cela se déroule-t-il ? À Londres, en Angleterre, dans une mairie du centre-ville.

📅 Quand cela a-t-il eu lieu ? Le samedi 31 mai 2026.


? Pourquoi c'est important ? Parce que Dua Lipa est une grande vedette suivie par des millions de personnes, et que son mariage a fait la une partout dans le monde.

@ Pour cette activité, ton objectif sera d'en apprendre davantage sur le mariage, et sur les mariés ! 🌸



OBJECTIFS

- Rédiger un court article de presse en s'inspirant de la structure des 5W.
- Localiser une île et une mer sur une carte, et calculer des distances à l'aide d'un outil cartographique.
- Découvrir un volcan célèbre et son environnement géographique.
- Distinguer le sens figuré du sens littéral dans les paroles d'une chanson.



MATIÈRES

- **Français**
 - Lecture et compréhension de textes
 - Expression écrite (article de presse)
 - Sens propre et sens figuré.
- **Géographie**
 - Repérage sur une carte du monde
 - Localisation d'une île (la Sicile) et d'une mer (la Méditerranée)
 - Les volcans.
- **Mathématiques**
 - Calcul de distances
 - Lecture et utilisation d'un outil de mesure (Google Earth).
- **Anglais**
 - Vocabulaire tiré de la chanson *Levitating*.



COMPÉTENCES

- Rechercher et interpréter de l'information.
- Lire et interpréter une carte du monde.
- Effectuer des calculs de distances à partir de plusieurs étapes d'un trajet.
- Rédiger un texte structuré et informatif.
- Comprendre la différence entre le sens propre et le sens figuré d'une expression.



DURÉE

- Environ 60 minutes



POUR DÉBUTER

- Demander aux élèves s'ils connaissent Dua Lipa et quelles chansons d'elle ils ont déjà entendues.
- Leur demander s'ils savent ce qu'est un mariage civil.
- Discuter de la raison pour laquelle le mariage d'une vedette intéresse autant de gens.
- Localiser le Royaume-Uni et l'Italie sur une carte du monde.

Mariage de Dua Lipa et Callum Turner (2 juin 2026)

FICHE PÉDAGOGIQUE



QUESTIONS ET RÉPONSES

ÉTAPE 1 — Le mariage de l'année. Rédaction d'un court article de presse (100 mots) sur le mariage, en s'inspirant de la structure des 5W. L'élève choisit un titre, sélectionne une image et rédige son texte.

ÉTAPE 2 — Une fête en Sicile. À l'aide de Google Earth (boîte de recherche et règle), calcul des distances et identification des éléments géographiques liés à la fête de mariage en Sicile. Réponses à quatre questions.

Q3 — Environ 1 800 km pour le trajet de Londres à Palerme.

Q4 — La mer Méditerranée.

Q5 — Environ 14 km, entre la Villa Valguarnera et le Palazzo Gangi.

Q6 — L'Etna.

ÉTAPE 3 — Une journée pour léviter. À partir de la chanson *Levitating* de Dua Lipa, l'élève distingue le sens figuré du sens littéral en classant cinq expressions dans le bon volet du tableau.

« My love is like a rocket » → sens figuré.

« Come on, dance with me » → sens littéral.

« You're my starlight » → sens figuré.

« You can fly away with me tonight » → sens figuré.

« I need you all night » → sens littéral.




POUR FINIR

- Faire un retour collectif sur ce que les élèves ont appris.
- Discuter de ce qui les a surpris (le mariage en deux temps, la fête en Sicile, le volcan, le sens caché des paroles de chansons).
- Demander : pourquoi tant de gens s'intéressent-ils à la vie des vedettes ?



POUR ALLER PLUS LOIN

 Biographie de Dua Lipa. NRJ
www.nrj.fr/artistes/dua-lipa/biographie



- Capo Lilibeo à Capo Passero (base) : 270 kilomètres
- Capo Passero à Capo Peloro (hauteur) : 180 kilomètres
- Aire = $(270 \times 180) \div 2 \approx 24\,300 \text{ km}^2$
- Superficie réelle de la Sicile : environ 25 700 km² — l'estimation est proche, l'écart vient des côtes irrégulières qui débordent du triangle.



La Sicile, une île à découvrir



Le drapeau de la Sicile porte un symbole très ancien appelé **la Trinacria** (ou triskèle), et les trois jambes ont une explication géographique simple : la Sicile est une île de forme à peu près triangulaire, avec trois pointes (trois caps) qui s'avancent dans la mer. Chaque jambe représente l'un de ces trois caps de l'île.



La Sicile est une grande île, **et aussi un grand triangle.**

Tu vas te servir des trois caps et du triangle qu'ils forment pour estimer la superficie de la Sicile. Comment ? C'est facile ! Avec Google Earth et l'outil RÈGLE :

- Mesure la distance entre Capo Lilibeo (à l'ouest) et Capo Passero (au sud-est). C'est la base de ton triangle.
- Fais la même chose entre Capo Peloro (au nord-est) et Capo Passero (au sud-est). C'est la hauteur de ton triangle.
- Tu peux calculer la superficie approximative de la Sicile avec la formule de l'aire du triangle : $(\text{base} \times \text{hauteur}) \div 2$

Arrives-tu à peu près à 25 700 km² ?