

Élections en Éthiopie (4 juin 2026)

FICHE PÉDAGOGIQUE

i De quoi est-il question ? Des élections nationales qui ont eu lieu en Éthiopie, un grand pays situé dans l'est de l'Afrique.


👤 De qui est-il question ? Des Éthiopiens et des Éthiopiennes, environ 130 millions de personnes, dont une grande majorité de jeunes.

🌍 Où cela se déroule-t-il ? L'Éthiopie se situe dans cette région qu'on appelle la Corne de l'Afrique.

🕒 Quand cela a-t-il eu lieu ? Le lundi 1er juin 2026.


? Pourquoi c'est important ? Parce que l'Éthiopie est l'un des plus anciens pays du monde et l'un des plus peuplés d'Afrique.

🎯 Pour cette activité, ton objectif sera d'en apprendre davantage sur l'Éthiopie.



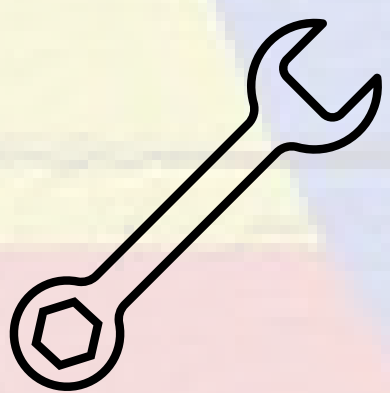
OBJECTIFS

- Découvrir les principales caractéristiques de l'Éthiopie
- Explorer des paysages et des lieux remarquables du pays
- Lire et interpréter un graphique à barres doubles
- Effectuer des calculs à partir de données réelles sur la population
- Comparer l'évolution démographique de différents pays



MATIÈRES

- **Univers social/Géographie**
 - L'Afrique de l'Est
 - Caractéristiques d'un pays
 - Paysages et patrimoine mondial
- **Mathématiques**
 - Lecture de graphique à barres
 - Soustractions avec de grands nombres
 - Comparaison de données numériques
- **Français**
 - Lecture et compréhension
 - Réponses courtes
 - Description d'un paysage



COMPÉTENCES

- Rechercher et interpréter de l'information
- Lire et interpréter un graphique
- Effectuer des calculs avec de grands nombres
- Organiser ses idées
- Produire des réponses courtes et précises



DURÉE

- Environ 60 minutes



POUR DÉBUTER

- Demander aux élèves s'ils peuvent situer l'Éthiopie sur une carte ou un globe
- Leur demander ce qu'ils savent ou imaginent à propos de ce pays
- Montrer une image d'Addis-Abeba et demander : à quoi ressemble une grande ville africaine ?
- Discuter : pourquoi certains pays grandissent plus vite que d'autres ?

Élections en Éthiopie (4 juin 2026)

FICHE PÉDAGOGIQUE



QUESTIONS ET RÉPONSES

ÉTAPE 1 — Découvrir l'Éthiopie. Découverte des principales caractéristiques du pays à l'aide de Vikidia et remplissage d'une fiche d'identité.

Capitale — Addis-Abeba

Population — 105 350 000 (selon Vikidia)

Superficie — 1 127 127 km²

Deux pays frontaliers — Soudan et Kenya

Monnaie — Birr

ÉTAPE 2 — Merveilles d'Éthiopie. Exploration de trois lieux remarquables à l'aide de Google Earth et réponses à des questions d'observation.

Q1 — Le Nil bleu.

Q2 — Réponse personnelle

Q3 — Réponse personnelle


ÉTAPE 3 — Un pays qui grandit. Analyse d'un graphique à barres doubles (2025 vs 2050) et résolution de questions mathématiques.

Q4 — Non, car sa population sera de 225 millions, contre 359 millions pour le Nigéria.

Q5 — $225 - 139 = 86$ millions.


Q6 — Oui ! La Chine et la Russie.

Q7 — C'est faux ! C'est l'Inde qui connaîtra la plus grande hausse (+204 millions). L'Éthiopie se classe quatrième (+86 millions).




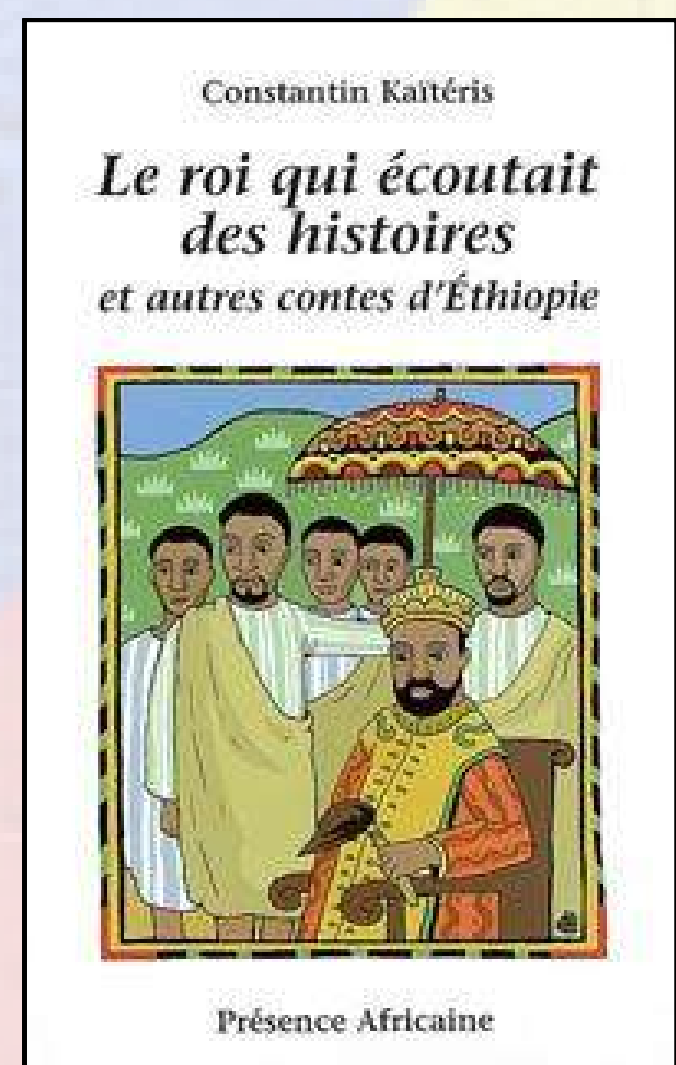
POUR FINIR

- Faire un retour collectif sur ce que les élèves ont appris
- Discuter de ce qui les a le plus surpris (paysages, population, modernité)
- Demander : pourquoi est-ce important de connaître d'autres pays ?
- Faire un lien entre la géographie, les mathématiques et l'actualité



POUR ALLER PLUS LOIN

 Constantin Kaitérés. *Le roi qui écoutait des histoires et autres contes d'Éthiopie*. Éditions Présence africaine



- $86 \div 139 \times 100 \approx 62 \%$. La population éthiopienne augmente d'environ deux tiers.
- En nombre, c'est l'Inde (+204 millions contre +86 pour l'Éthiopie). En pourcentage, c'est l'Éthiopie ($\approx 62 \%$ contre $\approx 14 \%$ pour l'Inde). Un grand pays peut gagner beaucoup d'habitants tout en grandissant lentement en proportion.



Élections en Éthiopie (4 juin 2026)



L'Éthiopie en pleine croissance !

Tu as terminé les trois étapes avec succès ? Bravo ! Voici un défi supplémentaire pour aller encore plus loin.


Cette fois, tu ne vas pas seulement comparer des nombres : tu vas calculer des pourcentages.

Un pourcentage, c'est une façon de montrer à quel point quelque chose a changé par rapport au point de départ.

Par exemple, si tu avais 100 billes et que tu en reçois 50 de plus, ta collection a augmenté de 50 %.



Prenons un exemple avec les États-Unis. La population de ce pays était d'environ 350 millions d'habitants en 2025. Elle sera d'environ 380 millions d'habitants en 2050.




- Croissance de la population : $380 - 350 = 30$ millions
- Pourcentage de croissance : $(\text{différence} \div \text{nombre de départ}) \times 100$
 $(30 \div 350) \times 100 = 8,6 \%$

Maintenant, réponds à ces deux questions à propos de la population de l'Éthiopie !



- La population de l'Éthiopie passe de 139 à 225 millions entre 2025 et 2050. Calcule de combien de pourcent sa population augmente.
- Compare l'Éthiopie et l'Inde. En nombre d'habitants, lequel des deux pays grandit le plus d'ici 2050 ? Et en pourcentage, lequel grandit le plus ?



☕ Savais-tu que le café serait né en Éthiopie ?

Selon une vieille légende, un jeune berger nommé Kaldi gardait ses chèvres dans les montagnes de la région de Kaffa. Un jour, il remarqua que ses chèvres sautaient et dansaient partout, incapables de se calmer ! Intrigué, il observa qu'elles avaient mangé de petites baies rouges sur un arbuste. Curieux, il en goûta et se sentit plein d'énergie !

Il apporta ces baies aux moines du village, qui découvrirent qu'en les faisant bouillir dans l'eau, on obtenait une boisson chaude parfaite pour rester éveillé lors des longues prières du soir. Le café était né !

Aujourd'hui, cette boisson est l'une des plus populaires au monde et l'Éthiopie reste l'un des grands producteurs. D'ailleurs, le mot « café » pourrait bien venir de Kaffa, la région où les chèvres de Kaldi ont tout commencé !